


# Занимательная

# математика





число



счёт



1



2



5



8



З  
Н  
А  
К



МИНУС



задача



точка

# Выбери правильный ответ



Три гуся летят над нами,

Три других – за облаками,



Два спустились на ручей.

Сколько было всех гусей?

4

8

6




# Логические задачи



## Кошки



*В комнате 4 угла, в каждом углу по одной кошки, напротив каждой кошки по три кошки, на хвосте у каждой кошки, по одной кошки. Сколько кошек в комнате?*



**Ответ: 4 кошки.** *Напротив каждой кошки по три кошки в трёх углах, и каждая кошка сидит на своём хвосте!*

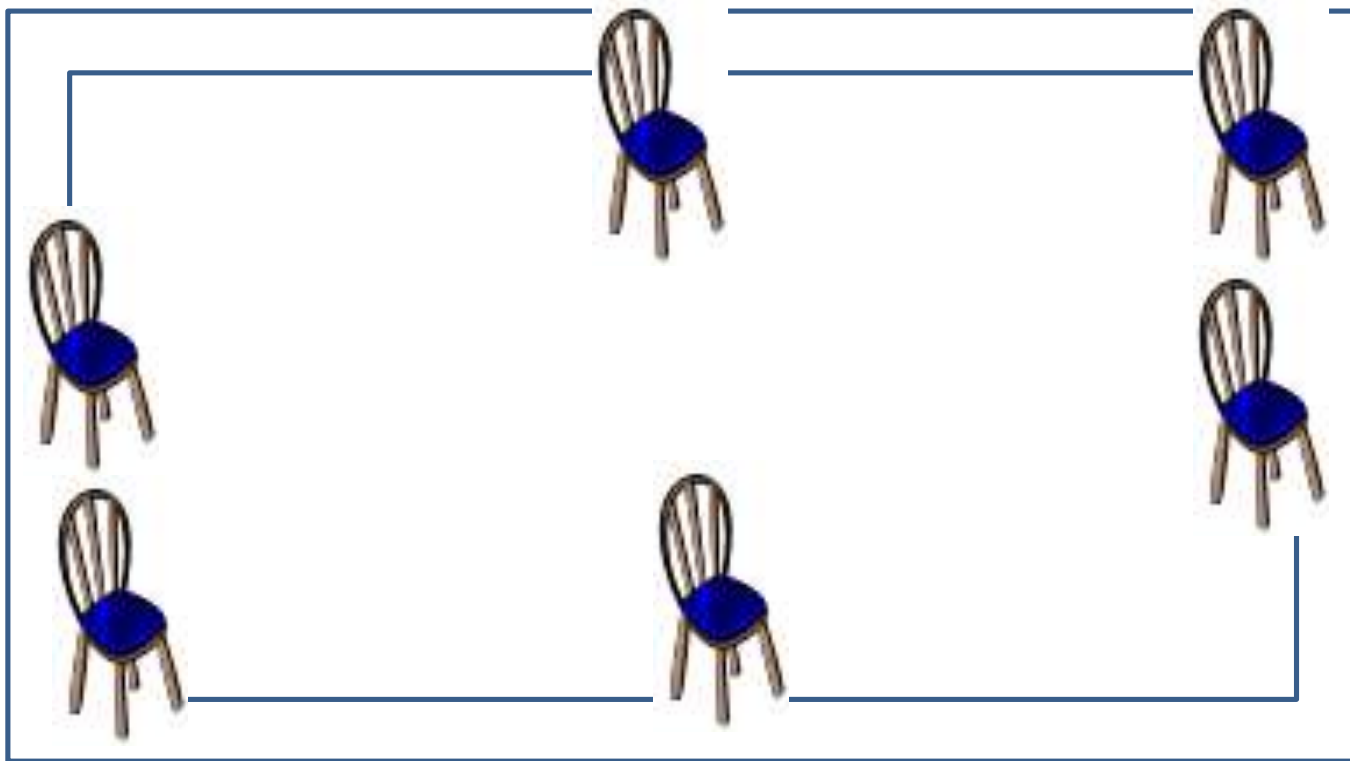
# Свечи.

*В комнате горело 50 свечей, 20 из них задули. Сколько останется?*



*Ответ: останется 20 свечей, остальные сгорят, а задутые свечи не сгорят полностью.*

*Расставьте в комнате 6 стульев так, чтобы у каждой стены стояло по 2 стула.*





Сидят три барана, против  
каждого барана - два барана,  
много ль всех?



*Ответ: 3 барана.*